



امتحان مادة : الجغرافيا الاقتصادية

للف : الحادي عشر

للعام الدراسي ١٤٤٤هـ - ٢٠٢٢/٢٠٢٣م

الدور الثاني - الفصل الدراسي الثاني

- زمن الامتحان : (ساعتان) ● عدد صفحات أسئلة الامتحان: (٩) صفحات.
- الإجابة في الدفتر نفسه .

		اسم الطالب
الصف		المدرسة

التوقيع بالاسم		الدرجة		السؤال
المصحح الثاني	المصحح الأول	بالحروف	بالأرقام	
				١
				٢
				٣
				٤
مراجعة الجمع	جمعه			المجموع
				المجموع الكلي

أجب عن جميع الأسئلة الآتية

السؤال الأول: ضع دائرة حول رمز الإجابة الصحيحة لكل مفردة من المفردات الآتية:

١- التقنية المستخدمة في تخطيط شبكات الطرق وإجراء دراسات تحليلية عنها:

أ- RS ب- GIS ج- Goggle Earth د- GPS

٢- يُعتبر التعرف على عادات الشعوب وتقاليدها من آثار السياحة:

أ- البيئية ب- الاقتصادية ج- السياحية د- الاجتماعية

٣- من مواصفات الأنهار المستخدمة في النقل النهري:

النهر الأول	النهر الثاني	النهر الثالث	النهر الرابع
يخلو من الشلالات	مصب النهر عريض	دائم الجريان	مصب النهر عريض
كثير الانحدار	يخلو من الجنادل	مصب النهر عريض	يخلو من الجنادل
كثير الجنادل	متقطع الجريان	يخلو من الجنادل	كثير التعرج

د-

ج-

ب-

أ-

٤- الترتيب الصحيح لأبرز الاختراعات في مجال الاتصالات:

أ- أول كمبيوتر - الألياف البصرية - الهاتف - اختراع الانترنت.

ب- الهاتف - الألياف البصرية - اختراع الانترنت - أول كمبيوتر.

ج- الهاتف - أول كمبيوتر - الألياف البصرية - اختراع الانترنت.

د- اختراع الانترنت - الهاتف - أول كمبيوتر - الألياف البصرية.

٥- الشكل الذي يوضح نقطة البداية للتجارة الالكترونية:



د-

ج-

ب-

أ-

تابع السؤال الأول:

٦- يطلق على مجموعة الناس الراغبين في المشاركة بالأنشطة السياحية من خلال زيارة أماكن محددة تحوي كافة التسهيلات السياحية:

أ- المرشد السياحي. ب- الموقع السياحي. ج- العرض السياحي. د- الطلب السياحي.

٧- من أشهر أسواق العرب في العصر الجاهلي والإسلامي:

أ- بهلا. ب- نزوى. ج- قلعات. د- صحار.

٧- الصورة المقابلة تمثل أحد المعالم السياحية الجيولوجية في ولاية:

أ- الدقم. ب- الجازر.

ج- محوت. د- هيما.



٩- تجمع الرياضة التي تنشط في أخدود دانا بروك في استراليا بين:

أ- تسلق الجبال واستكشاف الكهوف. ب- استكشاف الكهوف والغوص.
ج- تسلق الجبال والتزلج على الماء. د- التزلج على الماء والغوص.

امتحان مادة : الجغرافيا الاقتصادية – للصف لحادي عشر - للعام الدراسي ١٤٤٤هـ - ٢٠٢٢/٢٠٢٣ م
الدور الثاني- الفصل الدراسي الثاني

تابع السؤال الأول:

١٠- الدولة الأوروبية الأكثر جذباً للسياح لعام ٢٠١٣ م:

الدولة	عدد السياح بالمليون
ألمانيا	٢١,٥
إيطاليا	٤٧,٧
إسبانيا	٦٠,٧
بريطانيا	٣١,٢


ب- إيطاليا.

أ- فرنسا.

د- بريطانيا.

ج- إسبانيا

١١ - يُعد المعلم الواضح في الصورة مثلاً على مقومات السياحة البشرية في المجال:



ب- الديني .

أ- التاريخي.

د- الاقتصادي.

ج- الثقافي.

١٢- في الصورة المقابلة ، أحد المتاحف الأمريكية المتخصصة في مجال:



ب- الصناعة.

أ- التاريخ الطبيعي.

د- الرياضة.

ج- الفنون.

امتحان مادة : الجغرافيا الاقتصادية – للصف لحادي عشر - للعام الدراسي ١٤٤٤هـ - ٢٠٢٢/٢٠٢٣ م
الدور الثاني- الفصل الدراسي الثاني

السؤال الثاني: أجب عن جميع الأسئلة الآتية

أولاً: أ- عرف المصطلحات التالية:

١-الحكومة الالكترونية.

.....
.....

٢- المنشأة السياحية.

.....

ب- اذكر اثنين لكل من:

١- اختصاصات منظمة التجارة العالمية.

أ-

ب-

٢- الطرق البرية للتبادل التجاري في العالم القديم.

أ-

ب-

ثانياً: الصورة التي أمامك تعبر عن المدونة العالمية لأخلاقيات السياحة .. أجب عما يلي:

١- اذكر الهدف من إصدار وثيقة المدونة. .

.....

٢- المدينة التي صدرت منها وثيقة المدونة هي:

نيويورك

سانتياغو

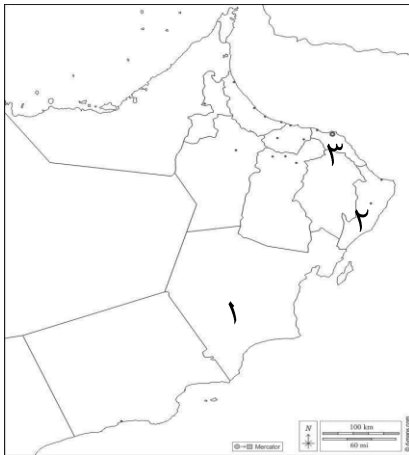
اختر الصواب بوضع علامة √

٣- وضح الجوانب التي تركز عليها المبادئ الأخلاقية للمدونة.

.....



Global Code of Ethics
for Tourism
For Responsible Tourism



ثالثاً: ادرس خريطة سلطنة عُمان، ثم اجب عما يلي:

١. ظلل المحافظة التي يسود فيها المناخ الموسمي.

٢. رقم المحافظة التي توجد بها حديقة السليل الطبيعية (...)

٣. رقم المحافظة التي توجد بها محمية السرين (...)

السؤال الثالث: أجب عن جميع الأسئلة الآتية

أولاً: أ- "نظم الفريق السياحي رحلة جوية من مدينة مسقط إلى مدينة نيودلهي الهندية وبعد الوصول إلى المدينة ، شاهدوا أهم المعالم السياحية كبوابة الهند والمتحف الوطني وقلعة لال التي تتميز بها المدينة، كما زاروا عددا من المدن الهندية" في ضوء ذلك حدد في الجدول التالي مايلي :-

.....	الوجهة	معايير تصنيف السياحة
.....	الشكل التنظيمي	
.....	المعالم	
.....	وسيلة النقل	

ب- صنف العبارات التالية التي توضح مفهوم السياحة الداخلية حسب معايير الدول:
(رحلة تنزه تبعد عن بيئته ١٦٠ كم - رحلة تنزه تبعد عن بيته ٨٠ كم- يقيم ليلة في المكان).

.....	سلطنة عُمان
.....	الولايات المتحدة الأمريكية

تابع السؤال الثالث:

ثانياً: الشكل المقابل يوضح إحدى التقنيات المستخدمة في مجال الاتصال، ادرسها ثم اجب عن الأسئلة التالية:

١- ما اسم التقنية ؟



.....

٢- ما أثر استخدامها في مجال الاتصالات ؟

.....

.....

ثالثاً: الصورة المقابلة توضح إحدى وسائل النقل ، ادرسه جيدا ثم أجب عما يلي:

١- ما نوع النقل الموضح في الصورة؟



.....

٢- اكتب ميزة واحدة لهذا النوع من النقل؟

.....

٣. أكبر قارات العالم من حيث استخدام هذا النوع من النقل:

أمريكا الشمالية وأوروبا

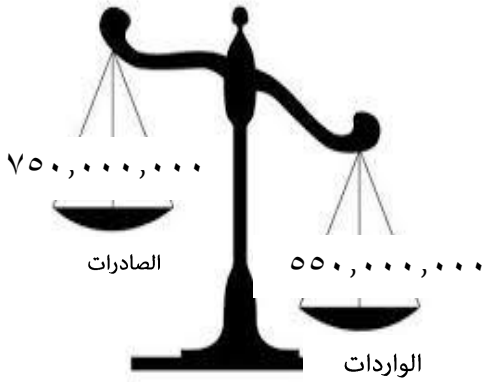
أمريكا الجنوبية وأوروبا

اختر الصواب بوضع علامة √

السؤال الرابع: أجب عن جميع الأسئلة الآتية

أولاً: الشكل يوضح الميزان التجاري لإحدى الدول .. أجب عما يلي:-

١. ما المقصود بالميزان التجاري؟



٢. من خلال الشكل ، كم يبلغ الميزان التجاري للدولة ؟

٣. أيهما تفضل الميزان التجاري:

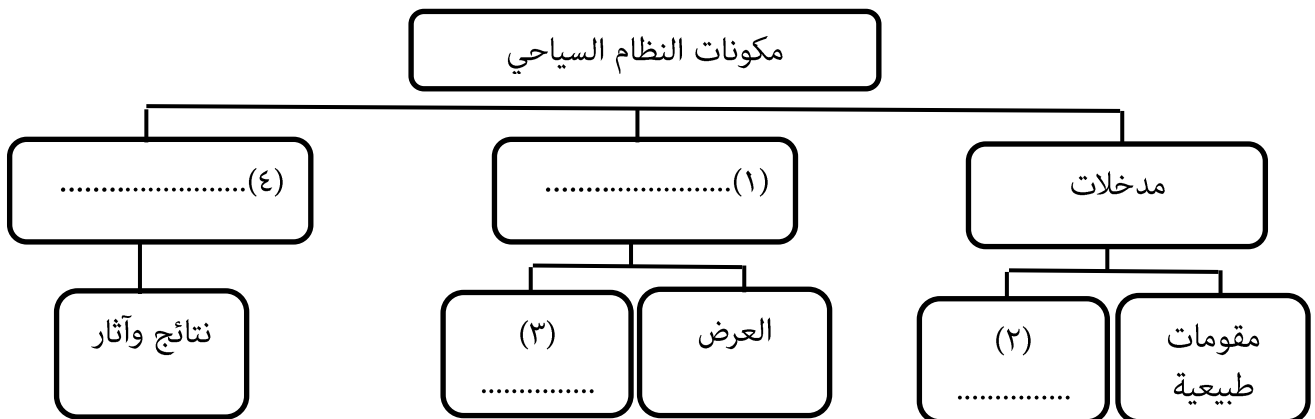
السالب الموجب

فسر /

ثانياً: قارن بين النقل الجوي والنقل بالأنابيب من حيث:-

أوجه المقارنة	النقل بالأنابيب	النقل الجوي
تكلفة النقل
طبيعة المواد المنقولة

ثالثاً: أكمل المخطط التالي الذي يوضح مكونات النظام السياحي:-



امتحان مادة : الجغرافيا الاقتصادية – للصف لحادي عشر - للعام الدراسي ١٤٤٤هـ - ٢٠٢٢/٢٠٢٣م
الدور الثاني- الفصل الدراسي الثاني

السؤال الخامس: أجب عن جميع الأسئلة الآتية

أولاً: صنف تسهيلات الامدادات اللوجستية في الجدول أدناه:

(المطاعم - الأثاث - الصيدليات - وسائل الاتصال)

.....	الخدمات التجارية
.....	الخدمات اليومية
.....	الخدمات الصحية
.....	الراحة

ثانياً: ادرس خريطة العالم، ثم أجب عما يلي:-



١- الرقم الذي يشير إلى الدولة التي طبقت نظام الحاسبات السياحية (.....).

٢- برأيك ما سبب توجه الأوروبيين إلى الدولة المشار إليها بالرقم (٣).

.....

٣- الرقم الذي يشير للدولة التي يوجد بها أكبر شبكة نقل سكك الحديدية (.....).

٤- ظلل باستخدام الرمز [] الدولة التي عُقد فيها المؤتمر العالمي الثالث للسياحة الجيولوجية

عام ٢٠١١م.

امتحان مادة : الجغرافيا الاقتصادية - للصف لحادي عشر - للعام الدراسي ١٤٤٤هـ - ٢٠٢٢/٢٠٢٣ م
الدور الثاني- الفصل الدراسي الثاني

تابع السؤال الخامس:

ثالثاً: أ- وضح النتائج المترتبة على أثر النشاط السياحي في البيئة الجبلية:

النشاط السياحي	تأثيره
استخدام الممرات الجبلية في جبال الهملايا.
مرور السيارات في مراعي جبال ظفار
سير المركبات بسرعة بطيئة في الجبال.

ب- يبلغ الدخل الشهري لسالم ١٥٠٠ ريال عماني ، بينما يبلغ دخل فهد الشهري ٣٥٠ ريال عماني، أيهما يفوق الآخر في الطلب السياحي ؟

سالم

اختر الصواب بوضع علامة √

محمد

فسر إجابتك /

انتهت الأسئلة